

मॉडल प्रश्न-पत्र (दोहराई हेतु)

एम०बी०डी० मॉडल प्रश्न-पत्र-1

भूगोल

CLASS—XII (C.B.S.E.)

निर्धारित समय : 3 घण्टे

अधिकतम अंक : 70

सामान्य निर्देश—

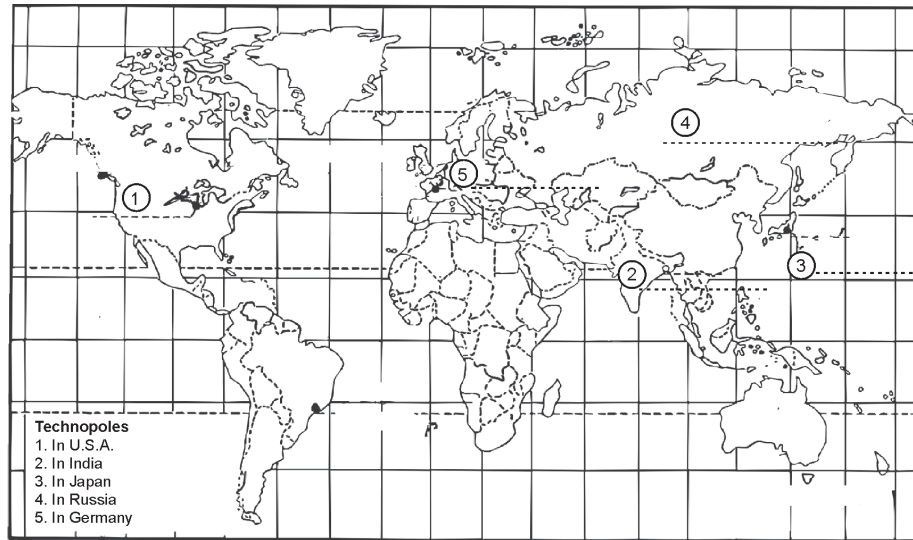
- (i) सामान्य प्रश्नों की कुल संख्या 22 है।
- (ii) सभी प्रश्न अनिवार्य हैं।
- (iii) प्रत्येक प्रश्न के सामने उसके निर्धारित अंक दिए हैं।
- (iv) प्रश्न संख्या 1 से 7 तक अति लघु उत्तर वाले प्रश्न हैं और प्रत्येक प्रश्न का 1 अंक है। ऐसे प्रत्येक प्रश्न का उत्तर 20 शब्दों से अधिक नहीं होना चाहिए।
- (v) प्रश्न संख्या 8 से 13 तक लघु उत्तर वाले प्रश्न हैं और प्रत्येक के 3 अंक हैं। ऐसे प्रत्येक प्रश्न का उत्तर 80 शब्दों से अधिक नहीं होना चाहिए।
- (vi) प्रश्न संख्या 14 से 20 तक लम्बे उत्तर वाले प्रश्न हैं और प्रत्येक के 5 अंक हैं। ऐसे प्रत्येक प्रश्न का उत्तर 150 शब्दों से अधिक नहीं होना चाहिए।
- (vii) प्रश्न संख्या 21 और 22 के 5 अंक हैं। यह प्रश्न मानचित्र पर भौगोलिक लक्षणों की पहचान तथा स्थिति अंकित करने से सम्बन्धित है।
- (viii) दिए गए **भारत तथा विश्व** के रेखा-मानचित्र को अपनी उत्तर-पुस्तिका में अवश्य नत्थी करिए।
- (ix) रेखा-मानचित्र बनाने के लिए **साँचों** या **स्टेंसिलों** के प्रयोग की अनुमति दी जाती है।

- | | | | |
|---|------------------|--|------------------|
| 1. नव नियतिवाद से क्या अभिप्राय है? | 1 | 13. भारत में गंदी बस्तियों की समस्याओं का वर्णन करो। | |
| 2. सशक्तिकरण से क्या अभिप्राय है? | 1 | | $3 \times 1 = 3$ |
| 3. एकत्रीकरण क्या है? | 1 | 14. मानव भूगोल की प्रकृति तथा अध्ययन क्षेत्र बताओ। | |
| 4. रेशम मार्ग से क्या अभिप्राय है? | 1 | | $2 + 3 = 5$ |
| 5. सीमांत सड़कें क्या हैं? | 1 | 15. संसार के आंतरिक जलमार्गों की स्थिति व महत्त्व बताओ। | |
| 6. जनसंख्या संघटन क्या है? | 1 | | $3 + 2 = 5$ |
| 7. मानव विकास क्या है? | 1 | 16. रोपण कृषि से क्या अभिप्राय है? इसकी विशेषताएँ बताओ। | |
| 8. 'भूगोल को ज्ञान का भंडार क्यों कहा जाता है?' | 3 | | $2 + 3 = 5$ |
| 9. उत्पादकता से क्या अभिप्राय है? इसे किस प्रकार बढ़ाया जा सकता है? | $1 + 2 = 3$ | 17. भारत के लौह-अयस्क का उत्पादन तथा वितरण का वर्णन करो। | $2 + 3 = 5$ |
| 10. 'स्थानांतरी कृषि का भविष्य उज्ज्वल नहीं है'। तीन कारण बताओ। | 3 | 18. भारत के ज्ञान आधारित उद्योगों के वितरण तथा विकास का वर्णन करो। | $2 + 3 = 5$ |
| 11. जलसंभर प्रबंधन क्या है? इसके तीन कार्यक्रम बताओ। | $1 + 2 = 3$ | 19. विश्व में जनसंख्या के असमान वितरण का वर्णन करो। | 5 |
| 12. भारत में मुक्त आकाश नीति का वर्णन करो। | $3 \times 1 = 3$ | 20. विश्व में व्यापारिक पशुपालन का वर्णन करो। | 5 |

M-1

21. आगे दिए गए विश्व के राजनीतिक रेखा-मानचित्र के पाँच भौगोलिक लक्षण 1, 2, 3, 4, 5 अक्षरों से दिखाए गए हैं।

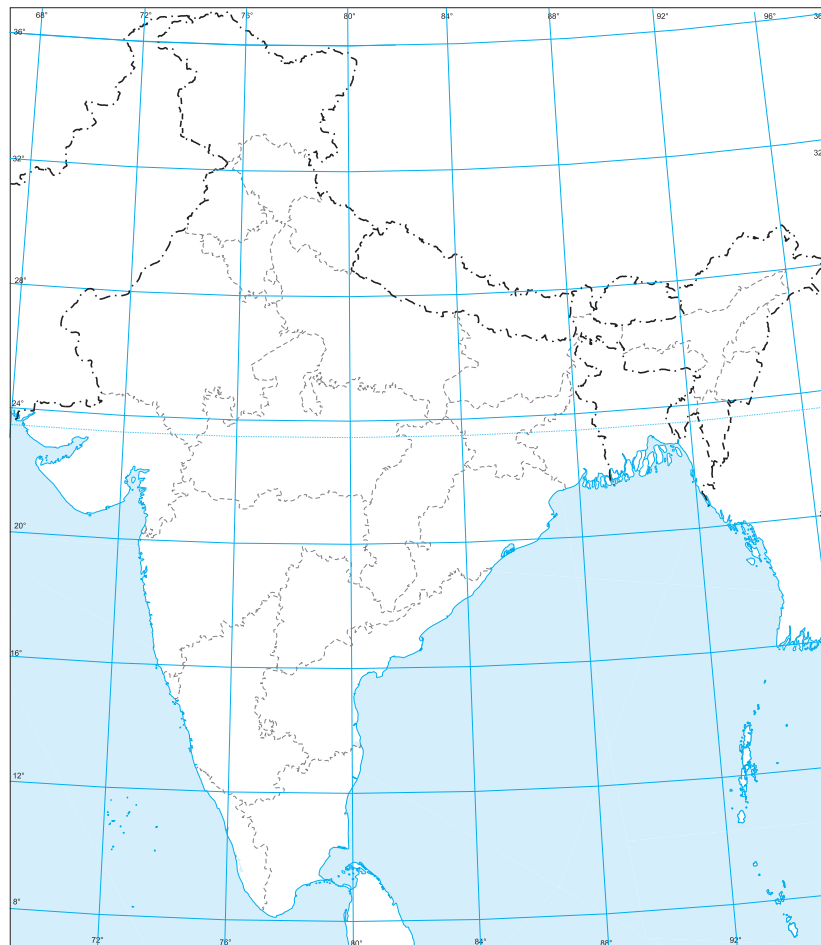
उनकी पहचान करो तथा इनके नाम मानचित्र पर दी गई बिंदु रेखाओं पर लिखो। $5 \times 1 = 5$



22. दिए गए भारत के राजनीतिक रेखा-मानचित्र पर निम्नलिखित दिखाओ तथा अंकित करो— $5 \times 1 = 5$

- (i) हिमाचल प्रदेश में एक सॉफ्टवेयर प्रौद्योगिकी पार्क
(ii) बरौनी तेल परिष्करणशाला

- (iii) भारत का सर्वाधिक नगरीकृत राज्य
(iv) महाराष्ट्र में एक महानगर
(v) कोरापट खनिज क्षेत्र।



ऐम.बी.डी. मॉडल प्रश्न-पत्र-2

भूगोल

CLASS—XII (C.B.S.E.)

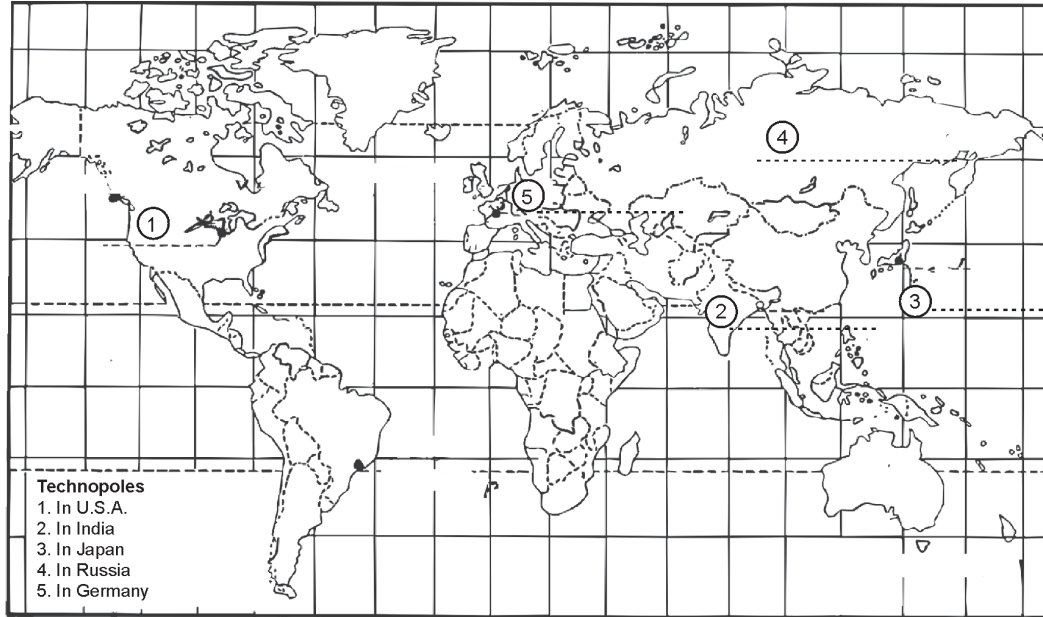
निर्धारित समय : 3 घण्टे

अधिकतम अंक : 70

सामान्य निर्देश—इसके लिए मॉडल प्रश्न-पत्र-1 देखिए।

1. भूगोल में द्वैतवाद से क्या अभिप्राय है? 1
2. जनसंख्या की ऋणात्मक वृद्धि क्या है? 1
3. कौन-सी जाति समूह हिमालय पर्वत में मौसमी स्थानांतरण करती है? 1
4. OPEC को विस्तृत करें। 1
5. साक्षरता क्या है? 1
6. राष्ट्रीय महामार्गों से क्या अभिप्राय है? 1
7. GATT से क्या अभिप्राय है? 1
8. परिवहन सेवाएँ क्या हैं? यह क्यों आवश्यक हैं?
1 + 2 = 3
9. एकत्रीकरण से क्या अभिप्राय है? यह किन प्रदेशों में प्रचलित है?
1 + 2 = 3
10. यूरोप का सबसे महत्वपूर्ण औद्योगिक समूह कौन-सा है तथा क्यों?
1 + 2 = 3
11. मुक्त व्यापार के लाभ बताओ। 3
12. भारत में प्रदूषण के तीन स्रोत बताओ। 3 × 1 = 3
13. “प्रौद्योगिकी किसी समाज के सांस्कृतिक विकास के स्तर

- की सूचक होती है।” उपरोक्त कथन के समर्थन में तीन मूल्य आधारित तथ्य दीजिए। 3
14. विश्व में शुष्क प्रदेश, शीत प्रदेश, आर्द्र प्रदेश तथा पर्वतीय प्रदेश विरल जनसंख्या प्रदेश क्यों हैं? 5
15. भारत में कोयले के उत्पादन तथा वितरण का वर्णन करो। 5
16. किन्हीं तीन प्रादेशिक व्यापारिक संघों की विशेषताएँ बताओ। 5
17. भारत में चावल की उपज दर्शाओ तथा उपज क्षेत्रों का वर्णन करो। 2 + 3 = 5
18. भारत में प्रमुख पाइपलाइनों का वर्णन करो तथा इनका महत्त्व बताओ। 2 + 3 = 5
19. विचरणशील पशुचारण की मुख्य विशेषताएँ बताओ। 5
20. भारत में पर्यावरणीय प्रदूषण का वर्णन करो। 5
21. आगे दिए गए विश्व के राजनीतिक रेखा-मानचित्र पर पाँच भौगोलिक लक्षण 1, 2, 3, 4, 5 अक्षरों से दिखाए गए हैं। इन लक्षणों की पहचान कीजिए और इनके नाम मानचित्र में दी गई बिंदु रेखाओं पर लिखिए। 5 × 1 = 5



22. दिए गए भारत के राजनीतिक रेखा-मानचित्र पर निम्नलिखित दिखाओ तथा अंकित करो— 5 × 1 = 5
 - (i) वह राज्य जहाँ लिंगानुपात सबसे कम है।
 - (ii) गुवाहाटी तेल परिष्करणशाला।

- (iii) केरल राज्य में एक अंतर्राष्ट्रीय वायु-पत्तन।
- (iv) चावल का अग्रणी उत्पादक।
- (v) चंडीगढ़।

M-3

एम०बी०डी० मॉडल प्रश्न-पत्र-3

भूगोल

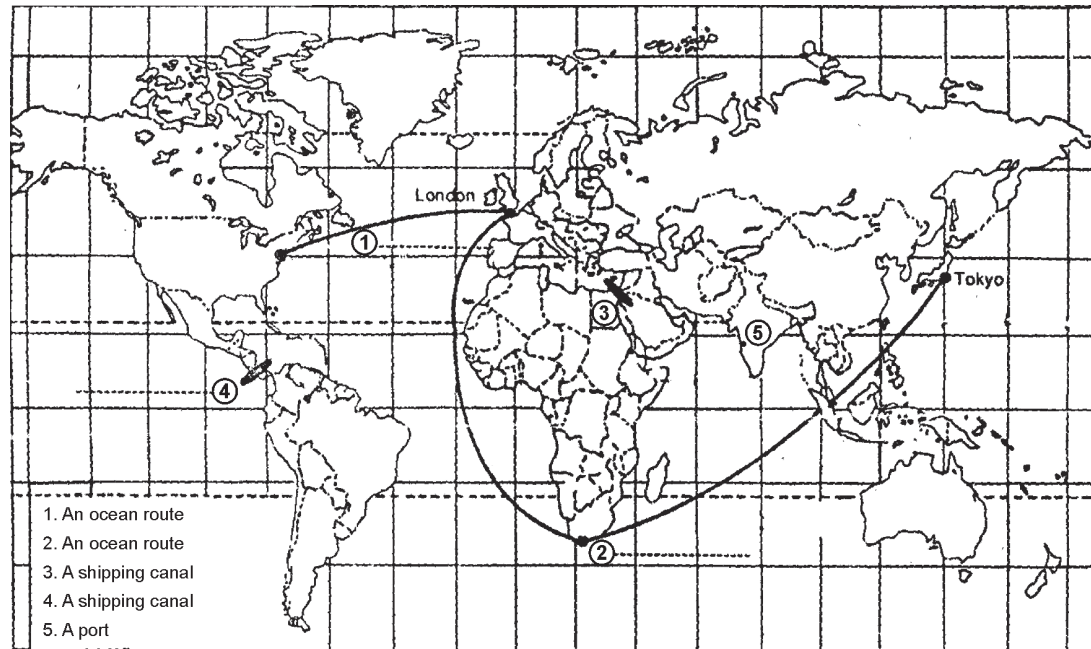
CLASS—XII (C.B.S.E.)

निर्धारित समय : 3 घण्टे

अधिकतम अंक : 70

सामान्य निर्देश—इसके लिए मॉडल प्रश्न-पत्र-1 देखिए।

- | | |
|---|---|
| <p>1. इंडियोग्राफिक शब्द का क्या अर्थ है? 1</p> <p>2. दास व्यापार क्या है? 1</p> <p>3. किस राज्य में सर्वाधिक सूती वस्त्र की मिलें हैं? 1</p> <p>4. राइन जलमार्ग क्या है? 1</p> <p>5. अदीस अबाबा कहाँ स्थित है? 1</p> <p>6. राजस्थान के दो पर्यटक नगरों का वर्णन करो। 1</p> <p>7. ह्रासमान जनसंख्या पिरामिड क्या है? 1</p> <p>8. भौतिक पर्यावरण तथा सांस्कृतिक पर्यावरण में अंतर स्पष्ट करो। 3</p> <p>9. फ़सलों की गहनता क्या है? इसे ज्ञात करने का सूत्र बताओ।
2 + 1 = 3</p> <p>10. अंतर्राष्ट्रीय व्यापार तथा राष्ट्रीय व्यापार में अंतर बताओ। 3</p> <p>11. मुंबई हाई से क्या अभिप्राय है? यह कहाँ स्थित है?
2 + 1 = 3</p> <p>12. भारत में अंतर्राष्ट्रीय व्यापार की बदलती प्रकृति पर लेख लिखो।
3 × 1 = 3</p> | <p>13. कृषि आधारित उद्योग क्या है? भारतीय अर्थव्यवस्था में इनका महत्व बताओ। 1 + 2 = 3</p> <p>14. स्थानांतरण से क्या अभिप्राय है? इसके विभिन्न प्रकार बताओ। 5</p> <p>15. पनामा नहर का भौगोलिक, आर्थिक, राजनीतिक महत्व का वर्णन करो। 2 + 2 + 1 = 5</p> <p>16. विकासशील देशों में नगरीय बस्तियों के विकास से उत्पन्न समस्याओं का वर्णन करें। 5</p> <p>17. भारत में चावल की उपज तथा क्षेत्रों का वर्णन करो।
2 + 3 = 5</p> <p>18. भूमौ क्षेत्र के भौतिक वातावरण का वर्णन करो। 5</p> <p>19. उद्योगों के स्थानीयकरण का वर्णन करो। 5</p> <p>20. अंतर्राष्ट्रीय व्यापार के आधारों का वर्णन करो। 5</p> <p>21. आगे दिए गए विश्व के राजनीतिक रेखा-मानचित्र पर पाँच भौगोलिक लक्षण 1, 2, 3, 4, 5 अक्षरों से दिखाए गए हैं। इन लक्षणों की पहचान कीजिए और इनके नाम मानचित्र में दी गई बिंदु रेखाओं पर लिखिए। 5 × 1 = 5</p> |
|---|---|



M-4

22. भारत के दिए गए राजनीतिक रेखा-मानचित्र पर निम्नलिखित दिखाओ तथा अंकित करो— $5 \times 1 = 5$
- (i) सर्वाधिक साक्षरता दर वाला राज्य

- (ii) डिगबोई तेल क्षेत्र
 (iii) बोकारो इस्पात संयंत्र
 (iv) झरिया खनन क्षेत्र
 (v) हल्दिया पत्तन।

